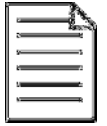


# ΕΛΛΑΔΑ

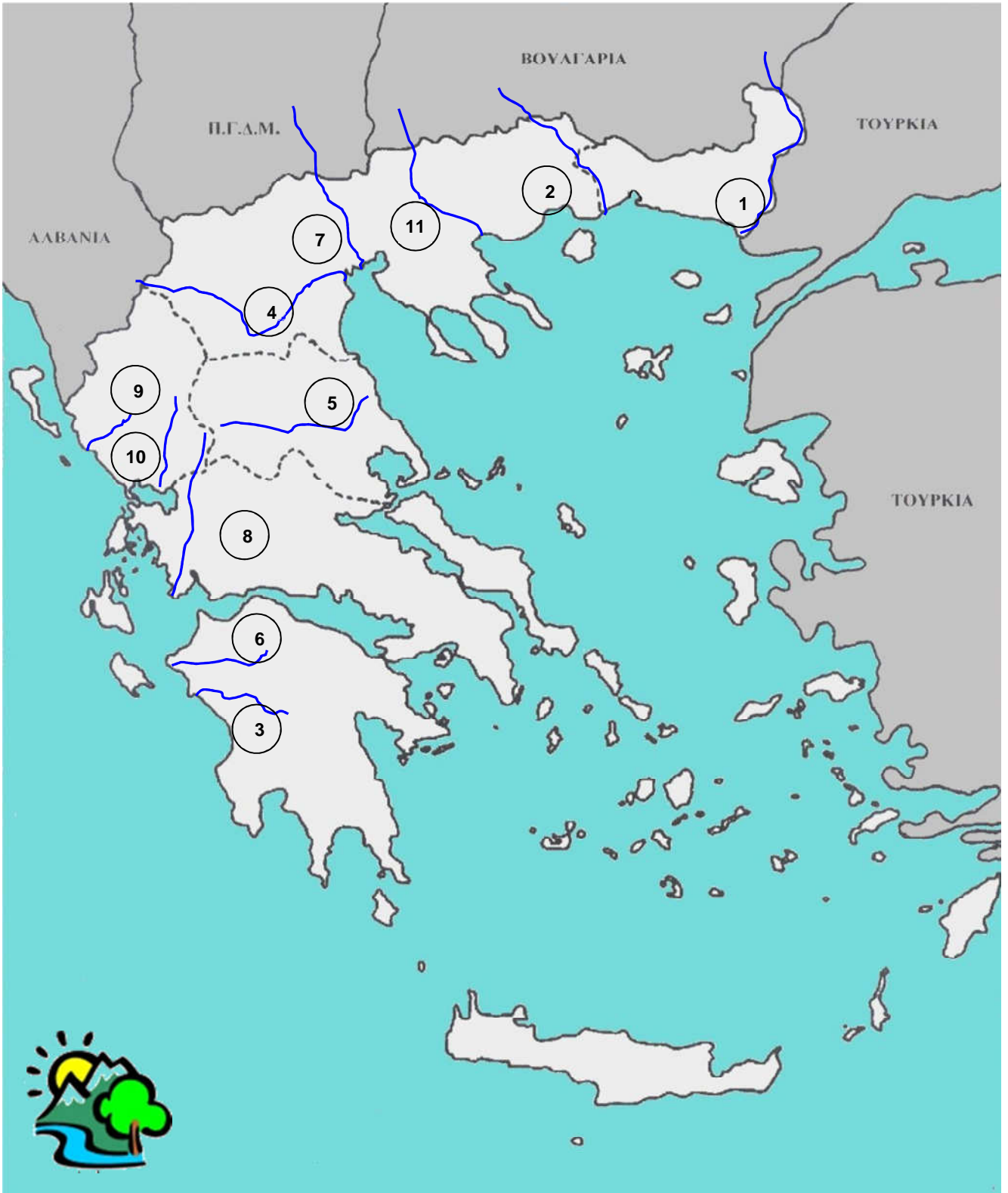


## Γεωμορφολογική εξέταση

1) Γράφω το όνομα του κάθε βουνού:



2) Γράφω το όνομα του ποταμού που αντιστοιχεί στον κάθε αριθμό:



1. ....
2. ....
3. ....
4. ....
5. ....

6. ....
7. ....
8. ....
9. ....
10. ....
11. ....

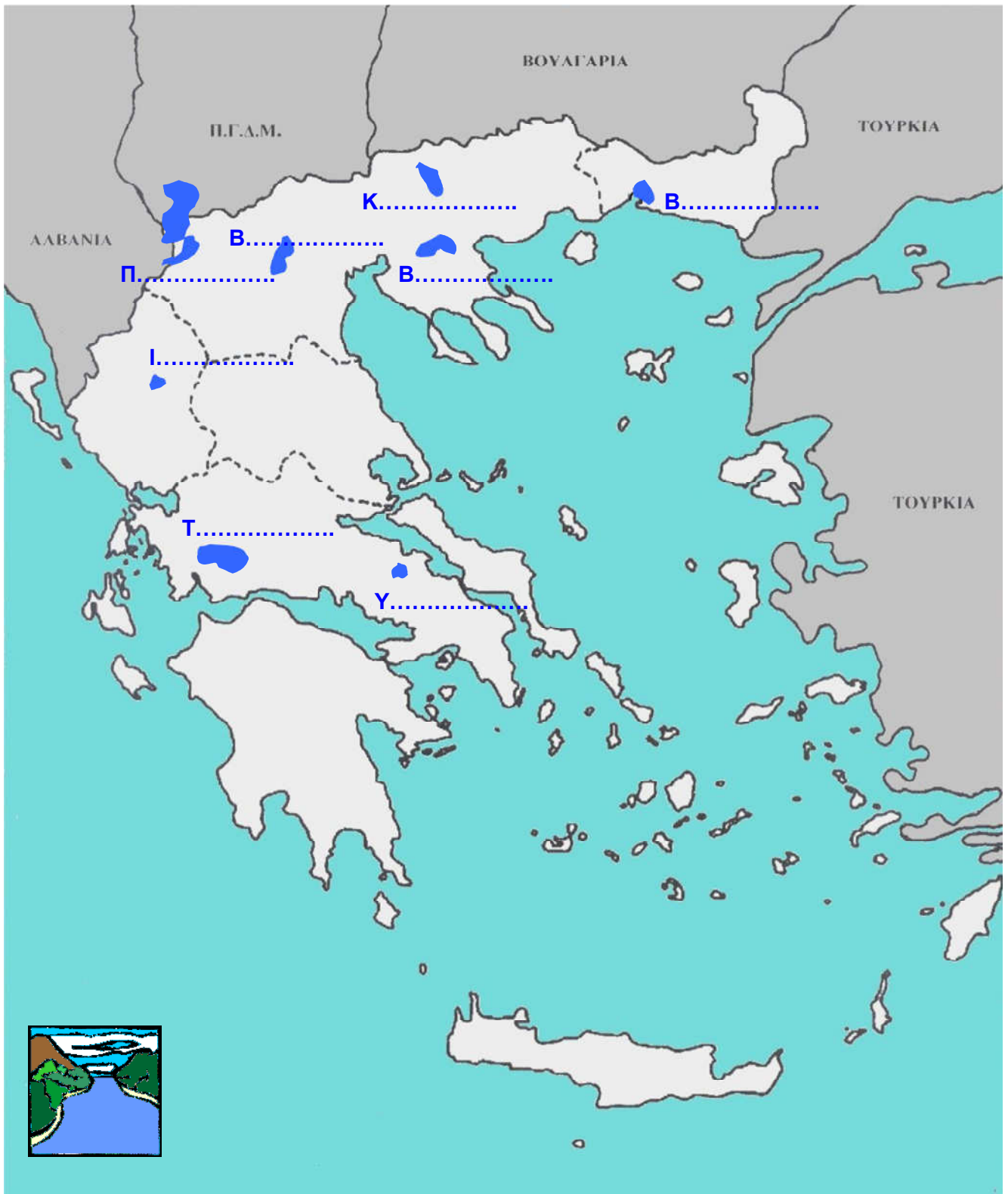
3) Γράφω το όνομα της πεδιάδας που αντιστοιχεί στον κάθε αριθμό:



1. ....
2. ....
3. ....
4. ....
5. ....



4) Γράφω το όνομα της κάθε λίμνης:



### 5) Συμπληρώνω

Το μεγαλύτερο μέρος της χώρας μας είναι ..... Βουνά καλύπτουν το .....% του εδάφους της.

Οι δύο μεγάλες οροσειρές της Ελλάδας είναι η οροσειρά της ....., που αποτελεί το βόρειο φυσικό σύνορο της χώρας μας με τη Βουλγαρία, και η οροσειρά της ....., που τη χωρίζει σε ανατολική και δυτική.

Οι πεδιάδες της Ελλάδας είναι λιγιστές. Οι δύο μεγαλύτερες πεδιάδες της είναι της ..... και της ....., την οποία διασχίζει ο Πηνειός ποταμός. Οι πεδιάδες που είναι ανοιχτές στη θάλασσα ονομάζονται ..... και εκείνες που περιβάλλονται από βουνά ονομάζονται ..... πεδιάδες.

Η Ελλάδα έχει πολλούς ..... ποταμούς, οι περισσότεροι από τους οποίους έχουν ..... μήκος. Οι δύο μεγαλύτεροι ποταμοί της είναι ο ..... και ο ..... Οι περισσότεροι πηγάζουν από την οροσειρά της .....

### 6) Γράφω τα τρία τμήματα τα οποία διακρίνουμε σ' έναν ποταμό:

